

# Insieme

Nel campo *dietro* la Cascina sud *ci* sono un sacco di massi e collinette rocciose, e *li* giocavamo io e Anna e Britta. Un giorno a Britta è venuto in mente *che* potevamo fare una casetta dei giochi nella spaccatura di un grosso masso. Era *proprio come* una piccola stanza. *Quanto ci* siamo divertite! La nostra casetta dei giochi è venuta *così bene che non se ne* era mai vista una più bella. Ho chiesto alla mamma *se* poteva regalarci un paio di scampoli di tappeti di stracci e lei me *li* ha dati. *Li* abbiamo stesi su una roccia e di colpo è sembrata *ancora di più* una vera stanza. *Poi* abbiamo trovato delle cassette dello zucchero e *le* abbiamo messe in giro per fare degli armadietti e una l'abbiamo piazzata in mezzo *come* tavolo. Britta *si* è fatta prestare dalla sua mamma uno scialle a quadretti *che* abbiamo usato *come* tovaglia. *Poi* abbiamo preso uno sgabello ciascuna per sederci. Io *ci* ho portato *anche* il mio servizio rosa da caffè per le bambole e Anna la sua caraffina a fiori con i bicchieri. Alla fine abbiamo raccolto un sacco di campanule e margherite e le abbiamo piazzate in un barattolo di vetro pieno d'acqua al centro della tavola. *Che* meraviglia!

(Astrid Lindgren, *Il libro di Bullerby*, Salani)

Leggi il brano, riconosci e sottolinea con le matite colorate le parti del discorso.

## LEGENDA


<input type="checkbox"/>	Verbi	<input type="checkbox"/>	Articoli	<input type="checkbox"/>	Preposizioni
<input type="checkbox"/>	Nomi	<input type="checkbox"/>	Aggettivi	<input type="checkbox"/>	Pronomi

Le parole in corsivo o messe tra parentesi dalla maestra non sono da analizzare.

# PALLAVOLO



Le squadre si fronteggiano con ardore, la partita è talmente avvincente che si devono disputare tutti i cinque set per avere un vincitore.

 I SET: ecco gli acquisti fatti dalle due classi III per il prossimo anno. Completa le parti mancanti.

### III A

3 palloni di cuoio: 75 euro  
Un mappamondo: 110 euro  
Libri: 200 euro

Totale =

L'acquisto è stato pagato con: 2 banconote da 200 euro

Resto =


### III B

Cartina dell'Italia: 150 euro  
4 scatole di pennarelli: 65 euro  
Tempere: 80 euro

Totale =

L'acquisto è stato pagato con:  
1 banconota da 100 euro  
1 banconota da 200 euro

Resto =

 II SET: Michele ha comprato alcuni libri per l'estate. Tornato a casa ha controllato lo scontrino che, però, si è macchiato. Aiutalo a scoprire quanto ha speso per il libro "Matilde".

Le cronache di Narnia 25 euro


Matilde ? euro

La fabbrica di cioccolato 14 euro

Rasmus e il vagabondo 17 euro

**TOTALE 75 euro**

Il libro "Matilde" è costato

 III SET: all'ingresso della piscina è esposta una lavagnetta con delle informazioni. Leggile e rispondi alle domande.

<b>PISCINA ACQUA AZZURRA</b> Lunghezza: 25 metri Altezza: 180 centimetri	<b>PISCINA ACQUA BLU</b> Lunghezza: 13 metri Altezza: 60 centimetri
--	---

Quale tra le due piscine è più lunga?

Quanti metri ci sono di differenza tra le lunghezze delle due piscine?

Misura la tua altezza. In quale piscina non "tocchi"?


Ogni bambino in piscina ha scelto un solo corso. Osserva la tabella e rispondi.

Tuffi	Stile libero	Rana	delfino	Dorso
12	18	21	15	9

Quanti sono in tutto gli iscritti?

Qual è il corso meno frequentato?

Qual è il corso maggiormente frequentato?

 IV SET: risolvi i problemi calcolando a mente.

Ginevra e Lucia misurano con i passi un lato della palestra. Ginevra misura 20 passi, Lucia 19. Chi ha il passo più lungo?

Giorgio ha in mente un numero segreto. Vi aggiunge prima 99 e poi 11 ottenendo 691. Qual è il numero segreto?

Beatrice usa la calcolatrice per calcolare  $98 \times 11$ , ma si sbaglia e digita 12 invece di 11. Rispetto al risultato esatto, Beatrice ottiene un numero maggiore, minore o uguale?

Per raggiungere la cima di una torre occorre salire una scalinata formata da 6 rampe da 15 gradini ciascuna. Giuditta ha già fatto 55 gradini. Quanti ne dovrà ancora salire per arrivare in cima?

Attorno ad ogni tavolo della gelateria possono sedere 8 persone. Se, essendo un'afosa giornata di agosto, la gelateria è affollata da 40 persone, quanti sono i tavoli occupati?

Risolvi i problemi scrivendo le operazioni.


- ② Giorgio ha raccolto 360 conchiglie sulla spiaggia e le vuole riporre in 8 contenitori. 32, però, sono rotte e le butta. Quante conchiglie ci sono in ciascun contenitore?

- ③ La maestra ha acquistato 12 nuovi libri per la biblioteca a 11 euro ciascuno. Se ha pagato con 3 banconote da 50 euro, quanto riceverà di resto?

⚽ V SET: la partita di calcio.

Dopo dieci giornate di campionato, la squadra di Giovanni ha totalizzato 15 punti. Nel gioco del calcio vengono assegnati 3 punti per ogni partita vinta, 1 punto per il pareggio e 0 punti in caso di sconfitta. Quante partite può aver vinto, quante ne ha pareggiate e quante ne ha perse la squadra di Giovanni?

I SOLUZIONE		II SOLUZIONE		III SOLUZIONE	
Vittorie		Vittorie		Vittorie	
Pareggi		Pareggi		Pareggi	
Sconfitte		Sconfitte		Sconfitte	



### GLI SPORT PIÙ STRANI DEL MONDO

Vi siete mai ritrovati a fare gare di velocità, tra i corridoi dell'ufficio, a bordo delle vostre sedie? C'è chi ne ha fatto uno sport, con tanto di pista da corsa e traguardo. È successo a Olten, in Svizzera, dove si è svolto il primo campionato del mondo di sedie da ufficio. Si è trattato di una gara di velocità in cui i 64 contendenti provenienti da Germania, Francia e Svizzera si sono lanciati su una pista di 200 metri... tutti in discesa!

### GARA DI SPANCIATE

Letteralmente, la gara della spanciata nella pozza di fango ("Mud Pit Belly Flop Contest"). La spanciata più bella, quella che fa più schizzi, quella più rumorosa. Anche così si sfidano gli americani. Questa infatti è una sola delle competizioni fra i cosiddetti Redneck (contadini della Georgia) durante una sorta di Olimpiade annuale in cui si osano le sfide più incredibili.

### SNOWBOARD ESTIVO

Le montagne innevate sono il paradiso degli appassionati della discesa su sci e snowboard, ma chi non ha la grazia delle neviccate invernali, si arrangia come può. Così fanno gli abitanti dell'isola di Tana nell'arcipelago Vanuatu, un'ottantina di isole situate nel Pacifico occidentale, a 2.250 chilometri a nord-est di Sidney e a 800 a est delle Fiji, dominata dal grande vulcano Yasur che a intervalli regolari sbuffa e vomita fiumi di lava. Abituati a convivere con il vulcano, gli isolani hanno imparato a solcare con lo snowboard i residui di cenere, dando vita al *cinder-boarding*.

E tu? Quest'estate hai assistito o intrapreso uno sport o un'attività particolare?

### RACCONTA CON IMMAGINI

## RACCONTA CON UN BREVE TESTO

