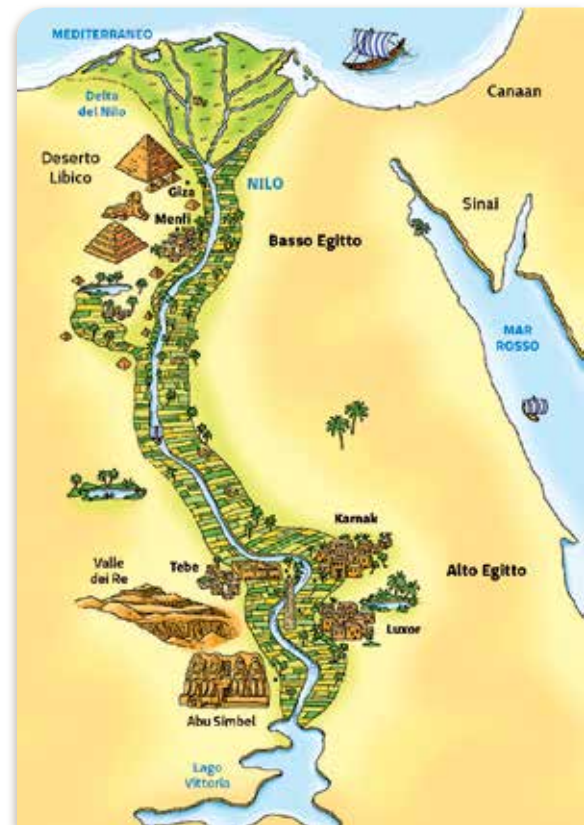


GLI EGIZI

QUANDO	
DOVE VIVEVANO	<p>EGITTO</p> <p>LUNGO LE RIVE DEL FIUME NILO</p>
CITTÀ	<ul style="list-style-type: none"> ▪ Tebe ▪ Menfi ▪ Giza ▪ Assuan ▪ Karnak ▪ Luxor ▪ Alessandria
COME VIVEVANO	<ul style="list-style-type: none"> ▪ Agricoltura ▪ Commercio ▪ Artigianato ▪ Architettura ▪ Guerra
PIRAMIDE [STRUTTURA] SOCIALE	<ul style="list-style-type: none"> ▪ Faraone ▪ Nobili <ul style="list-style-type: none"> ▪ Alti funzionari ▪ Militari ▪ Scribi ▪ Artigiani <ul style="list-style-type: none"> ▪ Pittori ▪ Scultori ▪ Ispettori ▪ Mercanti ▪ Popolo <ul style="list-style-type: none"> ▪ Lavoratori agricoli ▪ Servitori domestici ▪ Schiavi
RELIGIONE	<ul style="list-style-type: none"> ▪ Politeista [<i>molti dèi</i>]



L'Egitto ai nostri giorni.



GUARDA VIDEO

ANTICO EGITTO
NATIONAL GEOGRAPHIC

LE PAROLE

SCRIBA = chi copiava manoscritti, quindi sapeva **scrivere e contare**.

UNA CIVILTÀ INTORNO AL FIUME NILO

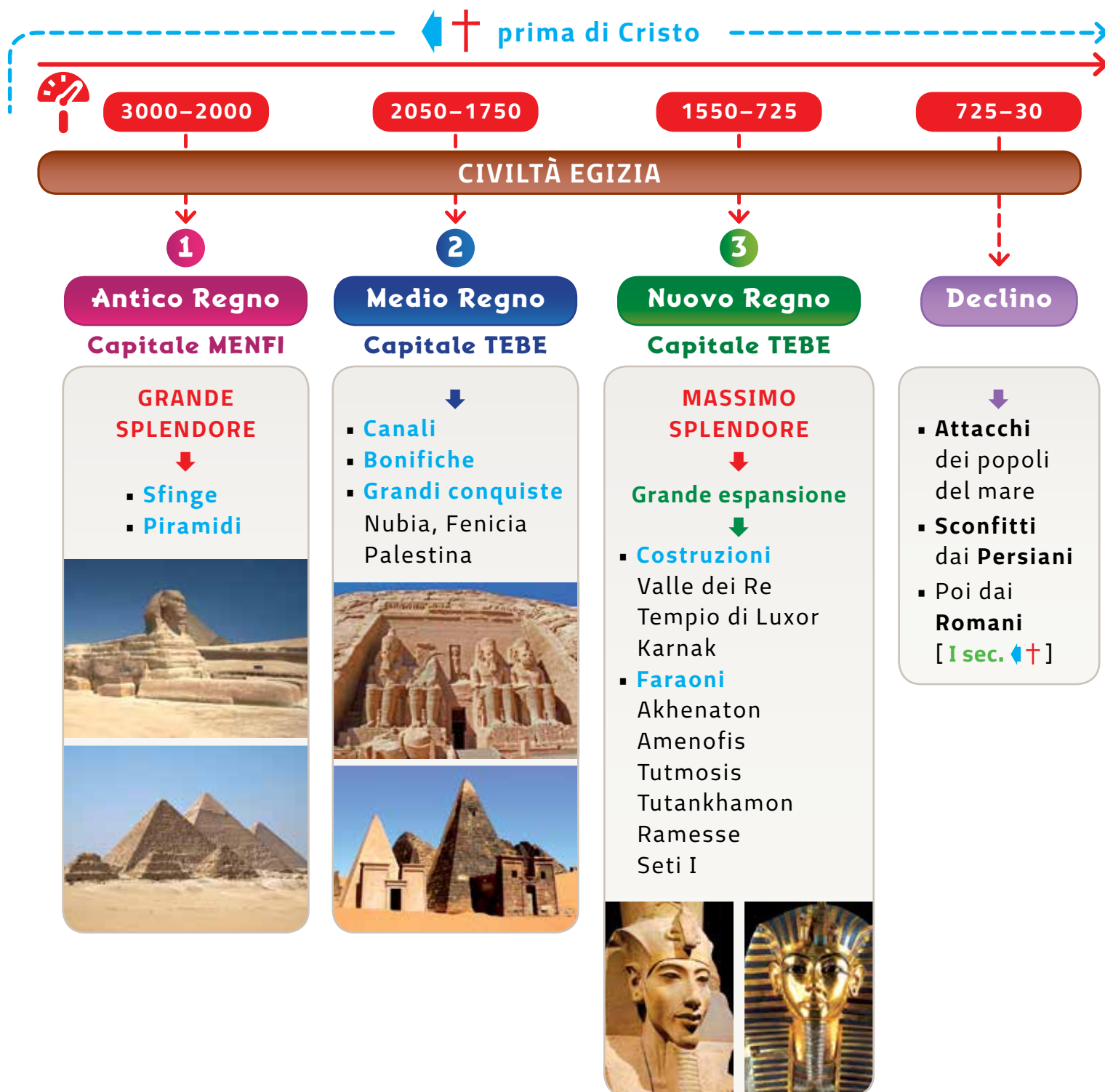
Lungo il corso del **fiume Nilo** verso il **3000**   si sviluppò l'importante **civiltà egizia**.

La **storia** d'**Egitto** è stata divisa in **tre periodi**:

IN PILLOLE



Il **NILO** con i suoi **6671 Km** è il secondo fiume più lungo della Terra e **dai Tropici**, dove nasce, **al Mediterraneo**, dove sfocia, attraversa i deserti.



Come per i **Sumeri** e i **Babilonesi**, anche per gli **Egizi** la fonte di vita e di ricchezza è un **fiume**: il **Nilo**.

Il fiume era prezioso per l'acqua che forniva alle città che sorgevano sulle sue sponde e per l'**agricoltura**.

Gli Egizi impararono a sfruttare le **piene periodiche** del **Nilo**, che superando gli argini spandeva

le sue acque sui terreni circostanti rendendoli fertili con i suoi **fanghi** [**limo**].

inondazioni			semina		crescita e raccolto						
agosto	settembre	ottobre	novembre	dicembre	gennaio	febbraio	marzo	aprile	maggio	giugno	luglio



Il fiume **Nilo** era considerato una **divinità**: **Hapi**.

Probabilmente perché le piene avvenivano nel periodo più caldo dell'anno: l'estate, quando di solito c'era siccità. Sembrava così un prodigio insuperabile.

Secondo te, com'era possibile ?

LE PAROLE

PIENE = inondazioni.



CERCA IN RETE

rai scuola - l'antico egitto


CERCA



Guarda il video:

NILO FIUME DEGLI DEI

inondazioni




semina



crescita e raccolto



verde = ok, rosso = allenati ancora un po' per non sbagliare più



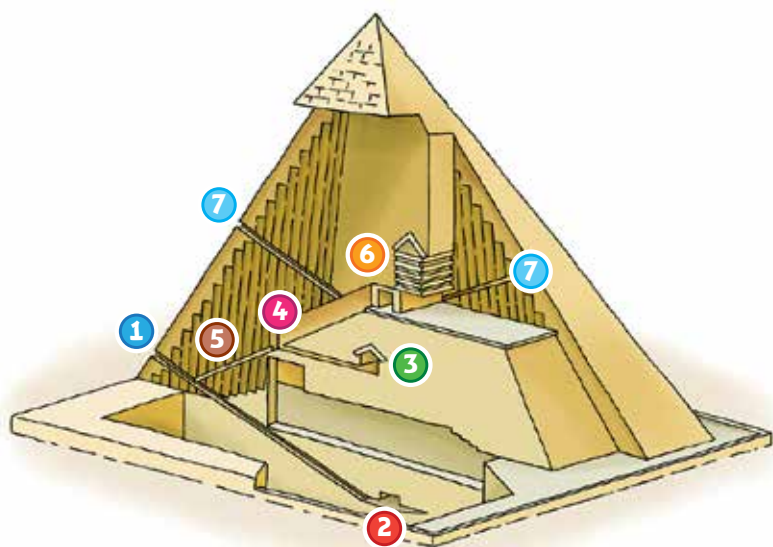
L'acqua proveniva dai **Tropici**, a 6000 Km di distanza, dove d'estate piove molto.

SOLUZIONE

LE MAESTOSE PIRAMIDI

I faraoni si facevano costruire **tombe maestose**, grandi come ziqqurat ma lisce all'esterno, per esservi sepolti con il loro corredo funerario: le **piramidi**.

DENTRO UNA PIRAMIDE



IN PILLOLE

Le **piramidi** più conosciute sono 3: **CHEOPE**, **CHEFREN** e **MICERINO** e si trovano nella piana di **Giza**, vicino a Il Cairo.

CURIOSITÀ

Secondo gli antichi egizi, gli uomini del popolo non avevano un'anima, per questo delle semplici buche nel suolo erano usate per le sepolture degli egizi delle classi più basse.

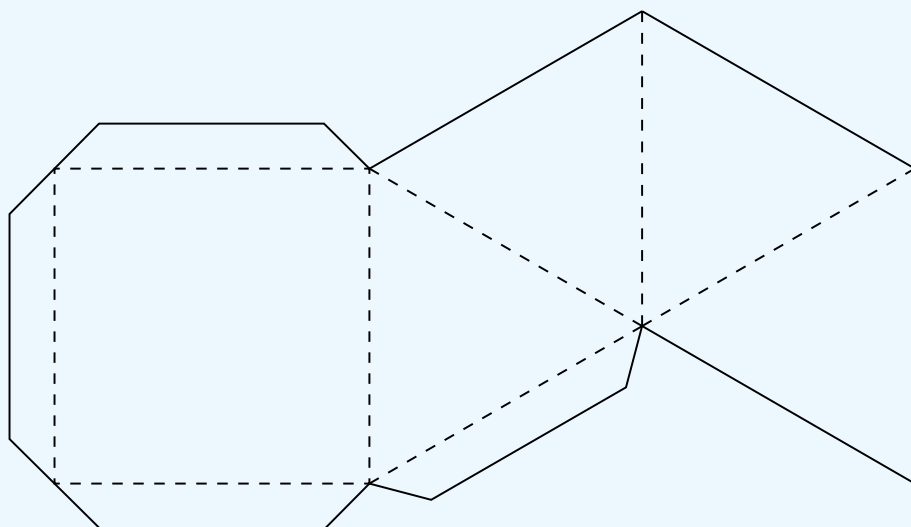
LEGENDA

- 1 **ingresso** al corridoio discendente
- 2 **camera sotterranea** incompiuta
- 3 **camera della regina**
- 4 **grande galleria**
- 5 **condotto** alla camera della regina
- 6 **camera del sarcofago**
- 7 **condotti** alla camera del re



ALLENIAMOCI

Ricopia il disegno su un foglio a quadretti e **costruisci la piramide**.



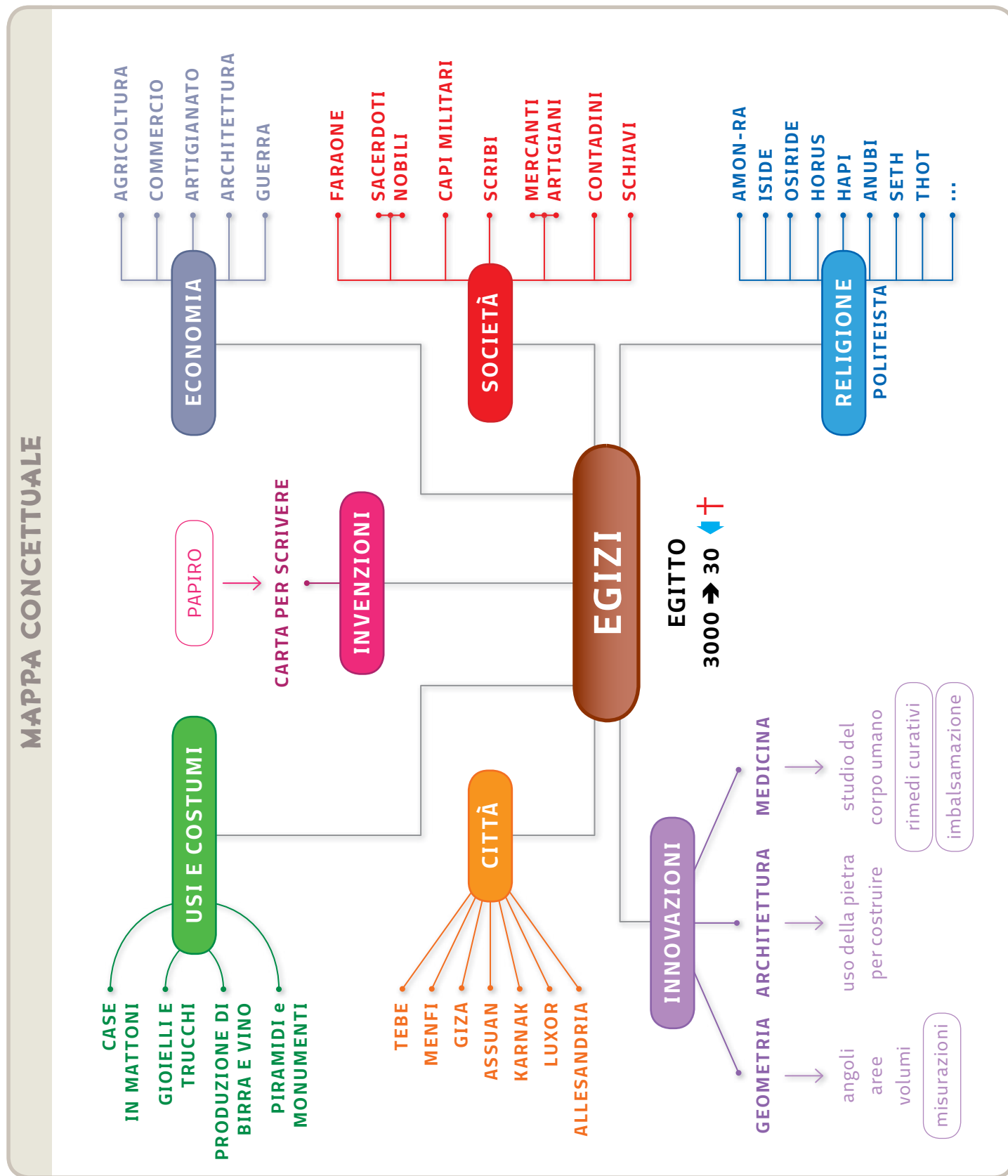
Le piramidi di Giza.

ESPLORIAMO

La Piramide di Cheope è l'unica tra le sette meraviglie del mondo antico che sia giunta fino ai giorni nostri. Quali erano le altre sei?

PER AIUTARTI A RICORDARE

Ricordati di girare il libro.



UN TEST PER MEMORIZZARE

Scrivi il numero della **risposta vera** nel **quadrato verde** e quello della **risposta più sbagliata** nel **quadrato rosso**.

ALLENIAMOCI


Puoi fotocopiare la tabella per usarla più volte.



1	La civiltà Egizia è sorta intorno al fiume:	
1	Eufrate.	<input type="checkbox"/>
2	Tigri.	<input type="checkbox"/>
3	Nilo.	<input type="checkbox"/>
4	Missisippi.	<input type="checkbox"/>
2	Perché il Nilo era importante per gli Egizi?	
1	Perché vi si svolgevano spettacolari gare di nuoto.	<input type="checkbox"/>
2	Perché potevano farci il bucato .	<input type="checkbox"/>
3	Perché con le sue piene rendeva il terreno fertile .	<input type="checkbox"/>
4	Perché era navigabile.	<input type="checkbox"/>
3	Che cos'è il limo?	
1	Il tessuto con cui venivano fasciate le mummie.	<input type="checkbox"/>
2	Terriccio nero, umido e ricco di sali minerali.	<input type="checkbox"/>
3	Un'antica limonata.	<input type="checkbox"/>
4	Il piatto tipico degli schiavi.	<input type="checkbox"/>
4	Le piene del Nilo erano considerate un miracolo:	
1	Perché bisognava pronunciare una formula magica.	<input type="checkbox"/>
2	Perché avvenivano ogni 25 anni.	<input type="checkbox"/>
3	Perché avvenivano senza preavviso.	<input type="checkbox"/>
4	Perché avvenivano d'estate, quando c'era siccità.	<input type="checkbox"/>
5	Gli egizi erano bravi:	
1	Agricoltori.	<input type="checkbox"/>
2	Pescatori-cacciatori.	<input type="checkbox"/>
3	Commercianti.	<input type="checkbox"/>
4	Motociclisti.	<input type="checkbox"/>
6	Con quali materiali gli egizi costruivano le case?	
1	Cemento armato.	<input type="checkbox"/>
2	Legno.	<input type="checkbox"/>
3	Bitume.	<input type="checkbox"/>
4	Mattoni di paglia e fango.	<input type="checkbox"/>


7	Il faraone era...	
1	Il funzionario che teneva i conti dello stato.	<input type="checkbox"/>
2	Re d'Egitto, capo dell'esercito, del governo, dei tribunali e primo sacerdote.	<input type="checkbox"/>
3	Il soprannome del fiume Nilo.	<input type="checkbox"/>
4	Uno dei magi.	<input type="checkbox"/>
8	Che tecnica usavano gli egizi per fare le mummie?	
1	Imbalsamazione.	<input type="checkbox"/>
2	Carbonizzazione.	<input type="checkbox"/>
3	Evaporazione.	<input type="checkbox"/>
4	Salificazione.	<input type="checkbox"/>
9	Gli egizi imbalsamavano i morti:	
1	Perché dopo la morte non si puzzasse.	<input type="checkbox"/>
2	Perché si doveva fare un lungo viaggio per vivere ancora dopo la morte.	<input type="checkbox"/>
3	Perché non sapevano cosa fare dei cadaveri.	<input type="checkbox"/>
4	Perché dovevano essere conservati in casa.	<input type="checkbox"/>
10	I geroglifici sono stati tradotti grazie alla Stele di Rosetta, perché era scritta in più lingue tra cui:	
1	Geroglifico e inglese.	<input type="checkbox"/>
2	Geroglifico e francese.	<input type="checkbox"/>
3	Inglese e francese.	<input type="checkbox"/>
4	Geroglifico e greco antico.	<input type="checkbox"/>
11	Le piramidi sono piene di corridoi segreti e trabocchetti:	
1	Per creare un labirinto e giocare insieme.	<input type="checkbox"/>
2	Perché gli architetti hanno sbagliato il progetto.	<input type="checkbox"/>
3	Per proteggere la stanza segreta in cui riposava il faraone.	<input type="checkbox"/>
4	Perché erano usate per girare i film di orrore.	<input type="checkbox"/>

Conta gli errori: se sono più di 6, rifai l'esercizio e con un po' di allenamento in più non sbaglierai.



<input type="checkbox"/>	7 E 11	E 7 11	L 2 6
E 1 8	7 2 4	1 7 9	7 E 2 1 5
1 7 4	E 2 3	1 E 2	7 E 1

SOLUZIONI





INDICATORI PER RAGIONARE INSIEME

Nello studio della geografia, oltre alle mappe e ai loro simboli, vi sono altre informazioni che ci **"suggeriscono"** **chi vive** e **come vive** in una certa regione.

Sono gli **indicatori**: numeri dai quali possiamo **dedurre** abitudini, stili di vita, interessi e organizzazione delle comunità che vivono in un territorio.

DOMANDA	CHE COSA SUGGERISCE?	INDICE
FA CALDO O FREDDO?	Se fa molto caldo o molto freddo. Se c'è siccità o molta acqua.	Temperature medie minime, massime, piovosità.
SI GUADAGNA MOLTO O POCO?	Come sono le case e le città, le auto e la tecnologia nelle famiglie di quel posto?	Reddito pro capite. Internet per 1.000 abitanti.
QUANTO SI STUDIA?	Si va a lavorare presto o tardi? Che lavoro si fa?	Vita scolastica.
QUANTI ANNI SI VIVE?	La durata della vita.	Età media. Aspettativa di vita.
QUANTI OSPEDALI CI SONO?	Cura della salute. Assistenza alle persone più deboli e indifese.	Investimenti in salute. Ospedali per km ² . Spesa per la salute.
C'È LAVORO?	Se c'è tranquillità per la sopravvivenza e garanzie per il lavoro.	Disoccupazione. Occupazione stabile. Tipo di lavoro svolto.
NASCONO TANTI BAMBINI?	La crescita di un Paese come numero di abitanti.	Natalità.

LE PAROLE



DEDURRE è la capacità di mettere in relazione le informazioni.

Dobbiamo essere bravi investigatori come Sherlock Holmes.

CERCA IN RETE



Se vai col mouse sull'Italia con il menù in alto puoi scoprire tantissime cose utili, sulla scuola, sul lavoro sull'economia, sul territorio...

Proviamo a studiare con l'aiuto degli indicatori. Facciamo una domanda, leggiamo il dato, il commento e scriviamo quello che ci suggerisce.

Quante persone **abitano** in Italia? **59 685 000**

Quanti stranieri **vivono** in Italia? **4 387 700**

In media una **famiglia** è formata da **2,3 persone**

1 figlio per ogni
3 famiglie.

Oggi si sente
molto parlare di
immigrazione: io
penso...

Lavoro — disoccupati **12,5** su 100

— giovani disoccupati **48,5** su 100

Sono tanti
o pochi?

Secondo te che
cosa vuol dire?

Che idee ti
vengono per fare
lavorare tutti?

Che lavoro si fa? — agricoltura **3,7** su 100

— industria **27,8** su 100

— servizi **68,5** su 100

Sempre meno:
perché?

In diminuzione:
perché?

Sai che cosa
sono i servizi?

Banche,
assicurazioni,
ospedali,
scuole,
comuni...

UN TEST PER MEMORIZZARE

Scrivi il numero della **risposta vera** nel **quadrato verde** e quello della **risposta più sbagliata** nel **quadrato rosso**.


ALLENIAMOCI

Puoi fotocopiare la tabella per usarla più volte.



1	Il reddito procapite indica:	
1	quanto guadagnano tutti gli italiani insieme;	<input type="checkbox"/>
2	quanto guadagna un italiano in media in un anno;	<input type="checkbox"/>
3	il nome di una società sportiva;	<input type="checkbox"/>
4	quanto spende in media un italiano in un anno.	<input type="checkbox"/>
2	Cos'è il tasso di natalità?	
1	Il periodo prima di Natale.	<input type="checkbox"/>
2	Un animale del bosco.	<input type="checkbox"/>
3	Il periodo in cui una donna può avere figli.	<input type="checkbox"/>
4	Il numero di nuovi nati ogni 1000 abitanti.	<input type="checkbox"/>
3	Il settore terziario è quello...	
1	in cui stanno quelli che non sanno cosa fare;	<input type="checkbox"/>
2	che occupa i piani alti;	<input type="checkbox"/>
3	dei servizi alle persone e all'industria;	<input type="checkbox"/>
4	della produzione industriale.	<input type="checkbox"/>
4	In Italia il consumo d'acqua a persona:	
1	è esagerato;	<input type="checkbox"/>
2	è insufficiente;	<input type="checkbox"/>
3	è indifferente;	<input type="checkbox"/>
4	è questione di sete.	<input type="checkbox"/>
5	Le attività di agricoltura e allevamento sono superiori al 3%. Perché?	
1	Mangiamo tutti di meno.	<input type="checkbox"/>
2	Le coltivazioni e gli allevamenti sono intensivi e meccanizzati.	<input type="checkbox"/>
3	Nessuno ha voglia di lavorare.	<input type="checkbox"/>
4	Le coltivazioni e gli allevamenti producono di meno.	<input type="checkbox"/>
6	In Italia ci sono 8000 km di coste, quindi ci saranno...	
1	molte spiagge e molti porti;	<input type="checkbox"/>
2	molti aeroporti e molte autostrade;	<input type="checkbox"/>
3	molti porti e ferrovie;	<input type="checkbox"/>
4	molte piste da sci.	<input type="checkbox"/>
7	Le città con le loro industrie si sviluppano più facilmente:	
1	in alta montagna, perché l'aria è più buona;	<input type="checkbox"/>
2	in collina perché il terreno è argilloso;	<input type="checkbox"/>
3	lontano dai fiumi, per via delle alluvioni;	<input type="checkbox"/>
4	in pianura perché è più facilmente accessibile.	<input type="checkbox"/>
8	Il turismo in Italia si è sviluppato grazie a:	
1	molte spiagge, prezzi bassi e molte vacanze;	<input type="checkbox"/>
2	l'efficiente amministrazione e il poco traffico;	<input type="checkbox"/>
3	molte spiagge, buona cucina e città d'arte;	<input type="checkbox"/>
4	il buon carattere degli italiani.	<input type="checkbox"/>
9	La Pianura Padana è:	
1	una pianura del sud Italia;	<input type="checkbox"/>
2	la sede di un partito politico;	<input type="checkbox"/>
3	una piccola pianura del nord Italia;	<input type="checkbox"/>
4	una grande pianura del nord Italia.	<input type="checkbox"/>
10	Quali tra questi gruppi indica solo fiumi italiani:	
1	Nilo, Piave, Fiume Azzurro e Secchia;	<input type="checkbox"/>
2	Piave, Taro, Missisipi e Arno;	<input type="checkbox"/>
3	Enisej, Missisipi, Danubio e Senna;	<input type="checkbox"/>
4	Po, Tagliamento, Dora Baltea, Piave.	<input type="checkbox"/>

Conta gli errori: se sono più di 4, rifai l'esercizio e con un po' di allenamento in più non sbaglierai.



<input type="checkbox"/>	<input type="checkbox"/>	<input type="checkbox"/>	<input type="checkbox"/>	<input type="checkbox"/>	<input type="checkbox"/>	<input type="checkbox"/>	<input type="checkbox"/>	<input type="checkbox"/>	<input type="checkbox"/>	<input type="checkbox"/>
2	8	1	7	4	2	3	7	1	9	2
7	4	2	3	3	2	7	2	3	2	1

